

Übung zur Vorlesung *Einsatz und Realisierung von Datenbanksystemen* im  
SoSe18

Alexander van Renen, Maximilian E. Schüle (i3erdb@in.tum.de)  
<http://db.in.tum.de/teaching/ss18/impldb/>

Blatt Nr. 11

**Hausaufgabe 1** In dem in Abbildung 1 gezeigten Netzwerk von Web-Seiten wird ein kleines Beispiel für einen Webgraphen gezeigt. Lösen Sie folgende Aufgaben.

1. Berechnen Sie, für das in Abbildung gezeigte Netzwerk, den PageRank, sowie die HITS-Werte nach 2 Iterationen. Nutzen Sie  $1/|V|$  als Anfangswert für den PageRank und 1 für HITS.  $a = 0.1$
2. Formulieren sie eine Iteration des Pagerank Algorithmus in SQL. Der Graph ist dabei in der Tabelle  $edges(VFrom, To)$  gespeichert, die aktuelle PageRank Gewichtung in der Tabelle  $pagerank(Vertex, Weight)$ . Sie können die Anzahl der Knoten als Konstante annehmen, z.B. 1000.

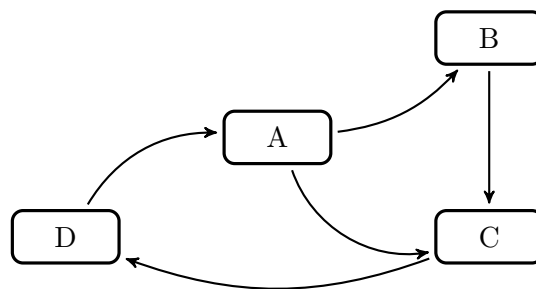


Abbildung 1: Ein kleiner Webgraph.

		A	B	C	D
<b>HITS: Iteration 1</b>	Hub	2	1	1	1
	Auth (vorläufig)	1	2	3	1
	Auth (normalisiert)	$\frac{1}{3}$	$\frac{2}{3}$	$\frac{3}{3}$	$\frac{1}{3}$
		A	B	C	D
<b>HITS: Iteration 2</b>	Hub	$\frac{5}{8}$	1	$\frac{1}{8}$	$\frac{1}{8}$
	Auth (vorläufig)	$\frac{1}{3}$	$\frac{2}{3}$	$\frac{3}{3}$	$\frac{1}{3}$
	Auth (normalisiert)	$\frac{1}{8}$	$\frac{2}{8}$	$\frac{3}{8}$	$\frac{1}{8}$

**PageRank**

		A	B	C	D
1.	PR Iter 1	$\frac{1}{4}$	$\frac{11}{80}$	$\frac{29}{80}$	$\frac{1}{4}$
	PR Iter 2	$\frac{1}{4}$	$\frac{11}{80}$	0.2613	0.3513

```

2. select VTo, 0.1/(CAST((select count(*) from pagerank)AS FLOAT))
    +0.9*sum(Beitrag)
from(
  select e.VTo, p.Weight/
    (select count(*) from edges x where x.VFrom=e.VFrom) as Beitrag
  from edges e , pagerank p
  where e.VFrom=p.Vertex
) i
group by VTo

```

**Hausaufgabe 2** Die Graphenclique

In Abbildung 2 sind drei Graphen gegeben, ein sternförmiger, eine Clique und ein linear angeordneter.

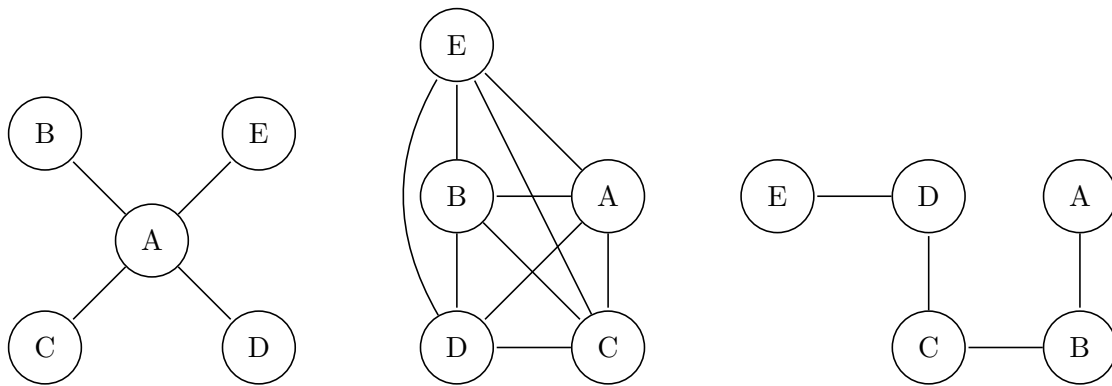


Abbildung 2: Star, Clique und Linie.

- Berechnen Sie den Grad der Knoten für jeden der Graphen.  
 Stern:  $C_D(A) = 4, C_D(B) = 1, C_D(C) = 1, C_D(D) = 1, C_D(E) = 1$   
 Clique:  $C_D(A) = 4, C_D(B) = 4, C_D(C) = 4, C_D(D) = 4, C_D(E) = 4$   
 linear:  $C_D(A) = 1, C_D(B) = 2, C_D(C) = 2, C_D(D) = 2, C_D(E) = 1$
- Berechnen Sie die Verbindungs Zentralität  $C_D(G)$  der drei Graphen, sowie deren normierte Verbindungs Zentralität  $C'_D(G)$ .

$$\begin{aligned}
C_D(G^*) &= \sum_{v \in V} [C_D(v^*) - C_D(v)] = \sum_{v \in V} [C_D(A) - C_D(v)] = (|V| - 2)(|V| - 1) \\
&= (4 - 4) + (4 - 1) + (4 - 1) + (4 - 1) + (4 - 1) = 12 = (5 - 2)(5 - 1)
\end{aligned}$$

$$C'_D(G^*) = \frac{C_D(G^*)}{C_D(G^*)} = 1$$

$$C_D(G_{Clique}) = \sum_{v \in V} [C_D(v^*) - C_D(v)] = 0$$

$$C'_D(G_{Clique}) = \frac{C_D(G_{Clique})}{C_D(G^*)} = 0/12 = 0$$

$$\begin{aligned}
C_D(G_{lin}) &= \sum_{v \in V} [C_D(v^*) - C_D(v)] = \sum_{v \in V} [C_D(B) - C_D(v)] = \\
&= (2 - 1) + (2 - 2) + (2 - 2) + (2 - 2) + (2 - 1) = 2
\end{aligned}$$

$$C'_D(G_{lin}) = \frac{C_D(G_{lin})}{C_D(G^*)} = 2/12$$

3. Berechnen Sie die Nähe-Zentralität  $H_G(v)$  für jeden Knoten der drei Graphen.

Für  $G^*$ :

$$\begin{aligned}
 H_{G^*}(A) &= \sum_{y \neq A \in V} \left[ \frac{1}{d(y, A)} \right] = \frac{1}{d(B, A)} + \frac{1}{d(C, A)} + \frac{1}{d(D, A)} + \frac{1}{d(E, A)} \\
 &= \frac{1}{1} + \frac{1}{1} + \frac{1}{1} + \frac{1}{1} = 4 \\
 H_{G^*}(B) &= \sum_{y \neq B \in V} \left[ \frac{1}{d(y, B)} \right] = \frac{1}{d(A, B)} + \frac{1}{d(C, B)} + \frac{1}{d(D, B)} + \frac{1}{d(E, B)} \\
 &= \frac{1}{1} + \frac{1}{2} + \frac{1}{2} + \frac{1}{2} = 2.5 \\
 H_{G^*}(C) &= H_{G^*}(D) = H_{G^*}(E) = 2.5 \text{ analog.}
 \end{aligned}$$

Für  $G_{Clique}$ :

$$\begin{aligned}
 H_{G_{Clique}}(A) &= \sum_{y \neq A \in V} \left[ \frac{1}{d(y, A)} \right] = \frac{1}{d(B, A)} + \frac{1}{d(C, A)} + \frac{1}{d(D, A)} + \frac{1}{d(E, A)} \\
 &= \frac{1}{1} + \frac{1}{1} + \frac{1}{1} + \frac{1}{1} = 4 \\
 H_{G_{Clique}}(B) &= H_{G_{Clique}}(C) = H_{G_{Clique}}(D) = H_{G_{Clique}}(E) = 4 \text{ analog.}
 \end{aligned}$$

Für  $G_{linear}$ :

$$\begin{aligned}
 H_{G_{linear}}(A) &= \sum_{y \neq A \in V} \left[ \frac{1}{d(y, A)} \right] = \frac{1}{d(B, A)} + \frac{1}{d(C, A)} + \frac{1}{d(D, A)} + \frac{1}{d(E, A)} \\
 &= \frac{1}{1} + \frac{1}{2} + \frac{1}{3} + \frac{1}{4} = \frac{25}{12} \\
 H_{G_{linear}}(B) &= \sum_{y \neq B \in V} \left[ \frac{1}{d(y, B)} \right] = \frac{1}{d(A, B)} + \frac{1}{d(C, B)} + \frac{1}{d(D, B)} + \frac{1}{d(E, B)} \\
 &= \frac{1}{1} + \frac{1}{1} + \frac{1}{2} + \frac{1}{3} = \frac{17}{6} \\
 H_{G_{linear}}(C) &= \sum_{y \neq C \in V} \left[ \frac{1}{d(y, C)} \right] = \frac{1}{d(A, C)} + \frac{1}{d(B, C)} + \frac{1}{d(D, C)} + \frac{1}{d(E, C)} \\
 &= \frac{1}{2} + \frac{1}{1} + \frac{1}{1} + \frac{1}{2} = 3 \\
 H_{G_{linear}}(D) &= \sum_{y \neq D \in V} \left[ \frac{1}{d(y, D)} \right] = \frac{1}{d(A, D)} + \frac{1}{d(B, D)} + \frac{1}{d(C, D)} + \frac{1}{d(E, D)} \\
 &= \frac{1}{3} + \frac{1}{2} + \frac{1}{1} + \frac{1}{1} = \frac{17}{6} \\
 H_{G_{linear}}(E) &= \sum_{y \neq E \in V} \left[ \frac{1}{d(y, E)} \right] = \frac{1}{d(A, E)} + \frac{1}{d(B, E)} + \frac{1}{d(C, E)} + \frac{1}{d(D, A)} \\
 &= \frac{1}{4} + \frac{1}{3} + \frac{1}{2} + \frac{1}{1} = \frac{25}{12}
 \end{aligned}$$

4. Berechnen Sie die Pfad-Zentralität  $H_G(v)$  für jeden Knoten der drei Graphen.

Für  $G^*$ :

$$\begin{aligned}
C_{G^*}(A) &= \sum_{s \neq A \neq t \in V} \left[ \frac{\sigma_{st}(v)}{\sigma_{st}} \right] \\
&= \frac{\sigma_{BC}(v)}{\sigma_{BC}} + \frac{\sigma_{BD}(v)}{\sigma_{BD}} + \frac{\sigma_{BE}(v)}{\sigma_{BE}} + \frac{\sigma_{CD}(v)}{\sigma_{CD}} + \frac{\sigma_{CE}(v)}{\sigma_{CE}} + \frac{\sigma_{DE}(v)}{\sigma_{DE}} \\
&= \frac{1}{1} + \frac{1}{1} + \frac{1}{1} + \frac{1}{1} + \frac{1}{1} + \frac{1}{1} = 6 \\
C_{G^*}(B) &= \sum_{s \neq B \neq t \in V} \left[ \frac{\sigma_{st}(v)}{\sigma_{st}} \right] \\
&= \frac{\sigma_{AC}(v)}{\sigma_{AC}} + \frac{\sigma_{AD}(v)}{\sigma_{AD}} + \frac{\sigma_{AE}(v)}{\sigma_{AE}} + \frac{\sigma_{CD}(v)}{\sigma_{CD}} + \frac{\sigma_{CE}(v)}{\sigma_{CE}} + \frac{\sigma_{DE}(v)}{\sigma_{DE}} \\
&= \frac{0}{1} + \frac{0}{1} + \frac{0}{1} + \frac{0}{1} + \frac{0}{1} + \frac{0}{1} = 0 \\
C_{G^*}(C) &= C_{G^*}(D) = C_{G^*}(E) = 0 \text{ analog.}
\end{aligned}$$

Für  $G_{Clique}$ :

$$\begin{aligned}
C_{G^*}(A) &= \sum_{s \neq A \neq t \in V} \left[ \frac{\sigma_{st}(v)}{\sigma_{st}} \right] \\
&= \frac{\sigma_{BC}(v)}{\sigma_{BC}} + \frac{\sigma_{BD}(v)}{\sigma_{BD}} + \frac{\sigma_{BE}(v)}{\sigma_{BE}} + \frac{\sigma_{CD}(v)}{\sigma_{CD}} + \frac{\sigma_{CE}(v)}{\sigma_{CE}} + \frac{\sigma_{DE}(v)}{\sigma_{DE}} \\
&= \frac{0}{1} + \frac{0}{1} + \frac{0}{1} + \frac{0}{1} + \frac{0}{1} + \frac{0}{1} = 0 \\
C_{G^*}(B) &= C_{G^*}(C) = C_{G^*}(D) = C_{G^*}(E) = 0 \text{ analog.}
\end{aligned}$$

Für  $G_{linear}$ :

$$\begin{aligned}
C_{G^*}(A) &= \sum_{s \neq A \neq t \in V} \left[ \frac{\sigma_{st}(v)}{\sigma_{st}} \right] \\
&= \frac{\sigma_{BC}(v)}{\sigma_{BC}} + \frac{\sigma_{BD}(v)}{\sigma_{BD}} + \frac{\sigma_{BE}(v)}{\sigma_{BE}} + \frac{\sigma_{CD}(v)}{\sigma_{CD}} + \frac{\sigma_{CE}(v)}{\sigma_{CE}} + \frac{\sigma_{DE}(v)}{\sigma_{DE}} \\
&= \frac{0}{1} + \frac{0}{1} + \frac{0}{1} + \frac{0}{1} + \frac{0}{1} + \frac{0}{1} = 0 \\
C_{G^*}(B) &= \sum_{s \neq B \neq t \in V} \left[ \frac{\sigma_{st}(v)}{\sigma_{st}} \right] \\
&= \frac{\sigma_{AC}(v)}{\sigma_{AC}} + \frac{\sigma_{AD}(v)}{\sigma_{AD}} + \frac{\sigma_{AE}(v)}{\sigma_{AE}} + \frac{\sigma_{CD}(v)}{\sigma_{CD}} + \frac{\sigma_{CE}(v)}{\sigma_{CE}} + \frac{\sigma_{DE}(v)}{\sigma_{DE}} \\
&= \frac{1}{1} + \frac{1}{1} + \frac{1}{1} + \frac{0}{1} + \frac{0}{1} + \frac{0}{1} = 3 \\
C_{G^*}(C) &= \sum_{s \neq C \neq t \in V} \left[ \frac{\sigma_{st}(v)}{\sigma_{st}} \right] \\
&= \frac{\sigma_{AB}(v)}{\sigma_{AB}} + \frac{\sigma_{AD}(v)}{\sigma_{AD}} + \frac{\sigma_{AE}(v)}{\sigma_{AE}} + \frac{\sigma_{BD}(v)}{\sigma_{BD}} + \frac{\sigma_{BE}(v)}{\sigma_{BE}} + \frac{\sigma_{DE}(v)}{\sigma_{DE}} \\
&= \frac{0}{1} + \frac{1}{1} + \frac{1}{1} + \frac{1}{1} + \frac{1}{1} + \frac{0}{1} = 4 \\
C_{G^*}(D) &= \sum_{s \neq D \neq t \in V} \left[ \frac{\sigma_{st}(v)}{\sigma_{st}} \right] \\
&= \frac{\sigma_{AB}(v)}{\sigma_{AB}} + \frac{\sigma_{AC}(v)}{\sigma_{AC}} + \frac{\sigma_{AE}(v)}{\sigma_{AE}} + \frac{\sigma_{BC}(v)}{\sigma_{BC}} + \frac{\sigma_{BE}(v)}{\sigma_{BE}} + \frac{\sigma_{CE}(v)}{\sigma_{CE}} \\
&= \frac{0}{1} + \frac{0}{1} + \frac{1}{1} + \frac{0}{1} + \frac{1}{1} + \frac{1}{1} = 3
\end{aligned}$$

**Hausaufgabe 3** In dem in Abbildung 3 gezeigten Netzwerk von Web-Seiten wird ein weiteres Beispiel für einen Webgraphen gezeigt. Berechnen Sie, für das in Abbildung gezeigte Netzwerk, den PageRank nach 2 Iterationen. Nutzen Sie  $1/|V|$  als Anfangswert für den PageRank.

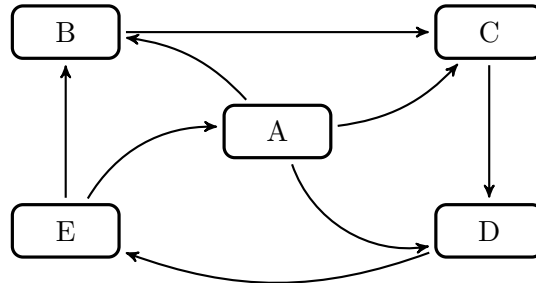


Abbildung 3: Ein weiterer Webgraph.

	A	B	C	D	E
PR Iter 0	$\frac{1}{5}$	$\frac{1}{5}$	$\frac{1}{5}$	$\frac{1}{5}$	$\frac{1}{5}$
PR Iter 1	$\frac{1}{10}$	$\frac{1}{6}$	$\frac{4}{15}$	$\frac{4}{15}$	$\frac{1}{5}$
PR Iter 2	$\frac{1}{10}$	$\frac{2}{15}$	$\frac{1}{5}$	$\frac{3}{10}$	$\frac{4}{15}$